

Aufgabe 2 Analysis: Stetigkeit, Differenzierbarkeit, Taylorreihen...

Es geht um die Funktionen f_k mit $f_k(x) = \begin{cases} x^k \cos(\frac{1}{x}) & \text{für } x \neq 0 \\ 0 & \text{für } x = 0 \end{cases}$ und

$k \in \mathbb{N}_0$.

a) Entwickeln Sie den Graphen von f_0 aus graphischer Verkettung. Begründen Sie damit wesentliche Eigenschaften. Geben Sie alle Extremstellen als Term an.

b) Skizzieren Sie den Graphen von f_1 unter Verwendung von f_0 als Produkt. Begründen Sie damit wesentliche Eigenschaften.

c) Geben Sie begründet für $k \in \{0, 1, 2, 3\}$ an, ob f_k überall stetig ist. Wie sehen die Graphen für höhere k in der Nähe von 0 aus?

Fortsetzung Aufgabe 2

d) Geben Sie begründet für $k \in \{0, 1, 2, 3\}$ an, ob f_k differenzierbar ist und ob die Ableitung, falls sie existiert, überall stetig ist.

Rechts ist die Normalparabel, der Graph von f_2 und seine Asymptote dargestellt.

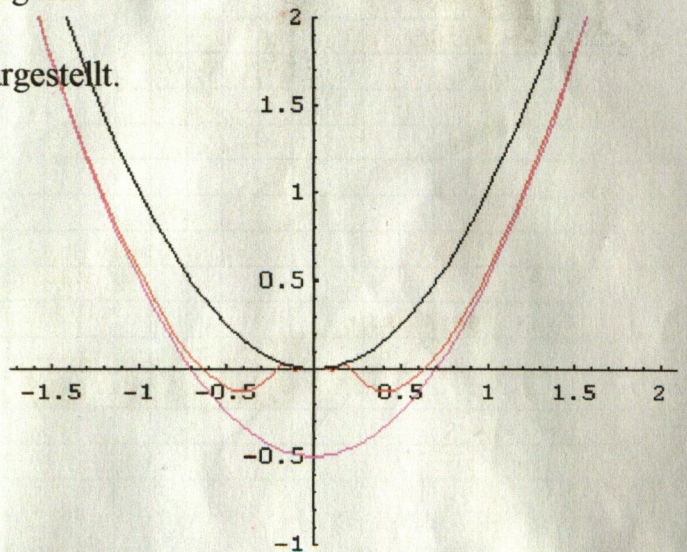
Bestimmen Sie die Asymptote, indem Sie in der Taylorreihe des Kosinus

$x \rightarrow \frac{1}{x}$ substituieren.

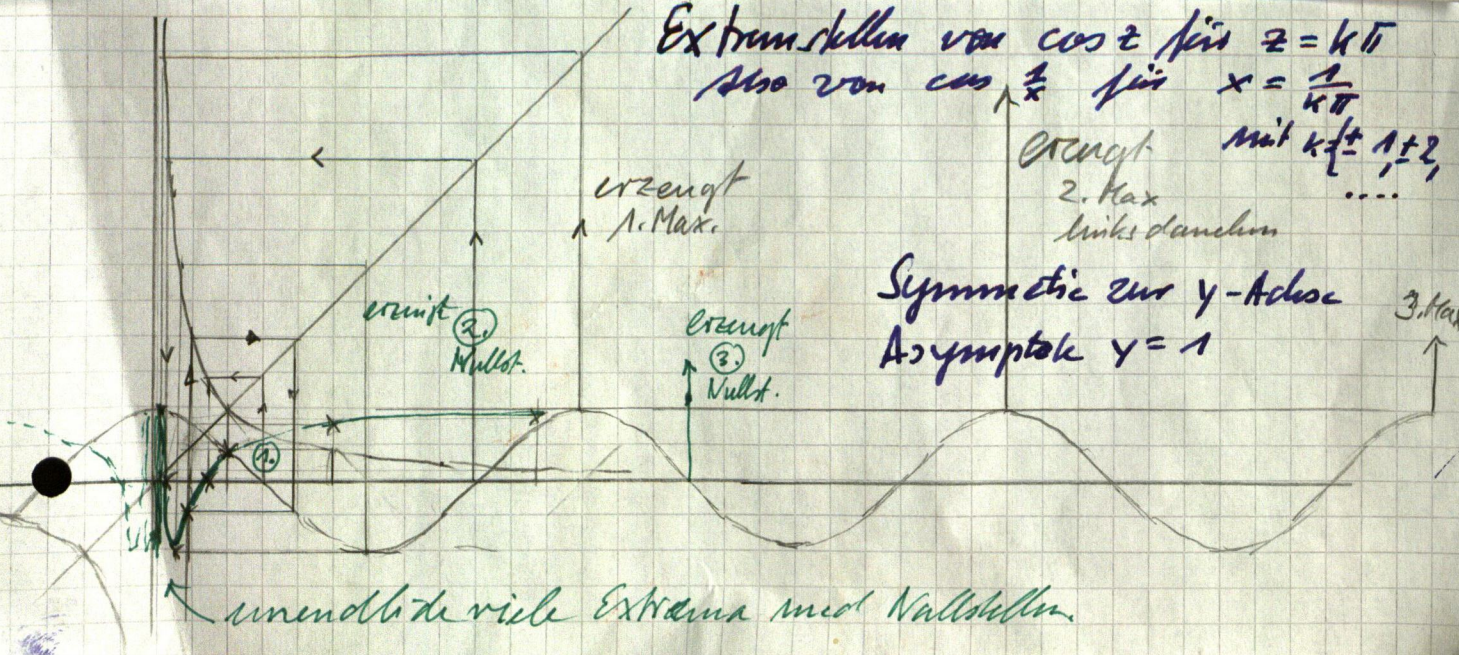
Zeigen Sie mit der Regel von l'Hospital, dass

$\lim_{x \rightarrow \infty} (x \cos(\frac{1}{x}) - x) = 0$ ist.

Was heißt das für die Asymptote von f_1 ?



Stammfkt. als nicht



weiter d)

4) f_2 mit $f_2(x) = x^2 \cos \frac{1}{x}$

Wieso für höhere Potenzen [zu 4]

Differenzquotient Grenzwert existiert

$$\frac{h^2 \cos \frac{1}{h}}{h} = h \cos \frac{1}{h} \xrightarrow{h \rightarrow 0} 0$$

Also ist f_2 differenzierbar in $x=0$ und damit überall

$$f_2'(x) = 2x \cos \frac{1}{x} + x^2 \cdot \left(-\frac{1}{x^2}\right) \sin \frac{1}{x}$$
$$= 2x \cos \frac{1}{x} + \sin \frac{1}{x}$$

5)

Schwankt in $[-1, 1]$ beliebig. $\Rightarrow f_2'$ ist stetig

6) f_3 Differenzialquotient existiert in $x=0$

somit $f_3'(x) = 3x^2 \cos \frac{1}{x} + x^3 \cdot \left(-\frac{1}{x^2}\right) \sin \frac{1}{x}$

$$\begin{matrix} \downarrow x \rightarrow 0 \\ 0 \end{matrix} + x \sin \frac{1}{x} \begin{matrix} \downarrow x \rightarrow 0 \\ 0 \end{matrix}$$

$\Rightarrow f_3'$ ist stetig. Das gilt für alle höheren Potenzen auch.

zu 6)

l) $f_2(x) = x^2 \cdot \cos \frac{1}{x} = x^2 \left(1 - \frac{x^2}{2!} + \frac{x^4}{4!} - \dots \right)$

$$= x^2 - \frac{x^4}{2!} + \frac{x^6}{4!} - \dots$$

Asymptote x stets im Nenner

$f_2(x) = x^2 \cos \frac{1}{x} - x$

$$\lim_{x \rightarrow \infty} (x^2 \cos \frac{1}{x} - x) = \lim_{x \rightarrow \infty} \frac{\cos \frac{1}{x} - 1}{\frac{1}{x}} = \lim_{x \rightarrow \infty} \frac{-\frac{1}{x} \sin(\frac{1}{x})}{-\frac{1}{x^2}}$$

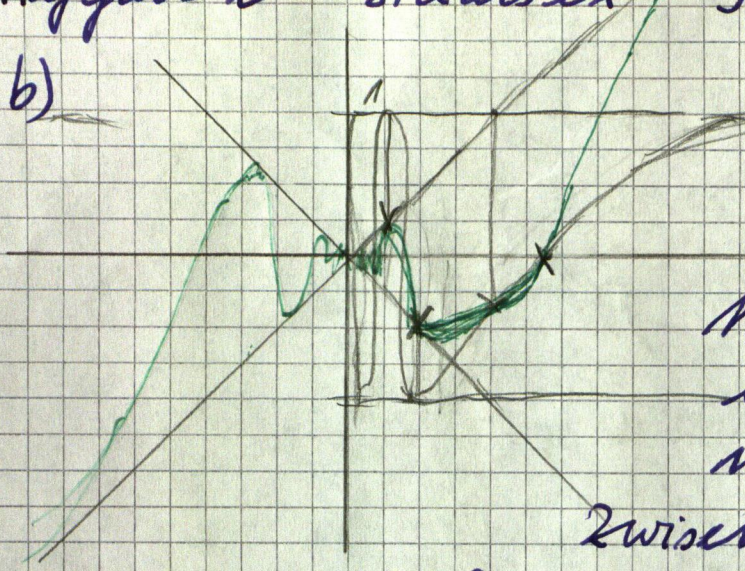
Das heißt, $y=x$ ist wirklich Asymptote.

$$= \lim_{x \rightarrow \infty} \sin \frac{1}{x} = 0$$

Tippfehler es stand x auf Aufg. blatt und Stud. freundliche Werbung.

Aufgabe 2 Staats ex 9/03

b)



$$f_1(x) = x \cos \frac{1}{x}$$

Punktsymmetrische
um Ursprung

Nach innen zu unend-
lich viel Beulenskelte
mit $y=x$ und $y=-x$

Zwischen diesen Geraden

wird der Graph "gekleinert".

Außen, für große x ist $\cos \frac{1}{x} \approx 1$ also

$$f_1(x) \approx x \text{ Asymptote}$$

c) f_0 unstetig in $x=0$, denn man kann
mit Nullfolgen $\{x_n\}$ mit $\{f_0(x_n)\}$ jeden
Wert zw. 0 und ± 1 erreichen.


1

2) f_1 ist stetig in $x=0$ (und auch sonst),
denn die Fkt.-Werte von Nullfolgen
streben auch gegen 0.

Bei f_2 wird der Graph zwischen $y=x^2$ und
 $y=-x^2$

2u2

eingeklemmt, damit gilt das für f_k
spracht erst recht. Also f_k mit $k \geq 1$ ist
überall stetig. (aber nicht "durch-
zeichnen bar")



Wären worden zw. inner Höhe Polwekt. geklemmt.

d) f_1 Differenzen Quotient

3

$$\frac{f_1(0+h) - f_1(0)}{h} = \frac{h \cos \frac{1}{h} - 0}{h} = \cos \frac{1}{h} \xrightarrow{h \rightarrow 0} 1$$

Damit ist f_1 in $x=0$ nicht diff'bar.

$f_n(0) = 0$	f in $x=0$	$\lim_{x \rightarrow 0}$ Differenzialquot	$\lim_{x \rightarrow 0}$ f'	f' in l_0	f	(diff'bar?) in x_0
$f_0(x) = \cos \frac{1}{x}$	unstetig ¹ in l_0 , beschr.	\neq		Def. Lücke unbeschr.	\neq	
$f_1(x) = x \cos \frac{1}{x}$	stetig ²	\neq ³		Def. Lücke unbeschr.		nicht diff'bar ³
$f_2(x) = x^2 \cos \frac{1}{x}$	stetig ²	\exists ⁴	unstetig ⁵ (beschr.)			diff'bar ⁴
$f_3(x) = x^3 \cos \frac{1}{x}$	stetig ²	\exists ⁴	stetig ⁶ (")			diff'bar.

Erläuterung

Anmerkung aus der Familie $x^k \cos \frac{1}{x}$ waren einige Fälle in der Vorlesung "Kerntheorie" behandelt.

Hier waren die Nachweise ¹, ², ..., ⁶ angeprochen
 Einem Nachweis aus jeder Gruppe und sonst verbale Analogisierungen habe ich erwartet.